

بسمه تعالی

مدیریت آموزش و پرورش ناحیه ۱ ارومیه

گروه های آموزشی دوره ابتدایی

نام:

کاربرگه مطالعات پایه ی ششم برای مرور نیمسال اول

نام خانوادگی:

تعداد صفحه: ۹

سؤالات

۱. موقعیت زیر را بخوانید .

یکی از دوستان شما، تشویقتان می کند که با هم در امتحان تقلب کنید و شیوه ای را هم برای این کار به شما نشان می دهد. اما نظر شما این است که هر نمره ای بگیرید، بهتر از این است که این کار نادرست را انجام بدهید. شما چه می گوئید؟ چگونه نظر خود را مطرح می کنید؟

.....

یکی از همکلاسی هایتان ، شما را به جشن تولدش دعوت کرده است. پدر و مادرتان، همکلاسی شما و خانواده اش را نمی شناسند و به شما اجازه نمی دهند در این مهمانی شرکت کنید. همکلاسی شما دوباره تلفن می زند و به شما اصرار می کند که حتماً بیایید. شما چه می گوئید؟ چگونه؟

.....

۲. درباره ی موقعیت زیر تصمیم گیری کنید.

شما به یک سالن ورزشی رفته اید. فردی در آنجا لباس های ورزشی حراجی پهن کرده است و می فروشد. دوستان شما از او خرید می کنند. شما پول کافی همراه ندارید و به لباس جدید هم نیاز ندارید اما دوستان به شما اصرار می کنند و حاضرند به شما پول قرض بدهند ...

.....

مدرسه تعطیل شده است و شما می خواهید به خانه برگردید. در چند قدمی مدرسه می بینید که یک کیف کوچک روی زمین افتاده است. آن را برمی دارید و مشاهده می کنید مقداری پول در آن است اما نام و نشانی صاحب کیف در آن نیست.

.....

مدرسه تعطیل شده است و شما و دوستانتان می خواهید به خانه بروید. دوستان از شما خواهش می کند که با هم به یک فروشگاه لوازم ورزشی بروید تا وسیله ای بخرید و فروشگاه هم از آنجا خیلی دور است...

.....

۳. موقعیت های زیر را بخوانید و درباره ی کارهای افراد گفت و گو کنید. کار کدامیک از آنها درست یا نادرست است؟ بهتر است هر یک از آنها در این موقعیت چگونه رفتار کنند؟

حسن و پوریا در همسایگی هم زندگی می کنند و با هم دوست و همکلاس هستند. آنها فردا امتحان ریاضی دارند. پوریا نتوانسته است بعضی از مطالب را خوب یاد بگیرد و از حسن خواهش می کند که به خانه ی آنها بیاید و به او ریاضی یاد بدهد. از طرفی حسن می خواهد بهترین نمره ی کلاس را بگیرد و نفر اول باشد و نمی داند چه تصمیمی بگیرد.

سارا و نرگس دوستان صمیمی هستند. آنها هر روز با هم به مدرسه می روند، با هم درس می خوانند و گاهی در روزهای تعطیل نیز به خانه ی یکدیگر می روند. خانواده ی نرگس خانه ی جدیدی در یک محله ی دیگر شهر خریده اند و قرار است به آنجا اسباب کشی کنند. نرگس هم باید در مدرسه ی دیگری ثبت نام کند. سارا خیلی گریه می کند و نمی تواند درس هایش را خوب بخواند.

مریم و لیلا با هم دوست هستند. مریم متوجه می شود که گاهی لیلا پشت سر یکی از همکلاسی هایشان بدگویی می کند. مریم با مهربانی به لیلا می گوید: همانطور که ما دوست نداریم کسی پشت سر ما حرف بزند، پس ما هم نباید عیب دیگران را بازگو کنیم؛ اما لیلا اخمهایش را در هم می کشد و ناراحت می شود و ...

جزوه سیپی

۴. دوست خوب چه ویژگی هایی دارد؟

چرا انتخاب دوست یک موضوع مهم است؟

داشتن دوستان خوب چه مزایا و فوایدی دارد؟

.....
.....

معنی این ابیات چیست؟ معنی آنها را توضیح دهید.

من آن گه بگویم که تو کیستی

تا تو را عقل و دین بیفزاید

تو اول بگو با کیان زیستی

همنشین تو از تو به باید

چگونه با دوستانمان رفتار کنیم؟

چگونه "نه" بگوییم؟

تصمیم گیری چه مراحل دارد؟

هنگام بهترین انتخاب باید چه سؤالهایی از خودمان بپرسیم؟

- ✓
- ✓
- ✓
- ✓
- ✓

چرا تصمیم‌گیری کار مهمی است؟

مشورت چیست؟

با چه کسانی مشورت کنیم؟

افراد چگونه ما را تحت تأثیر فشارهای روانی قرار می دهند؟

جزو ه سستی

۵. این اخبار از روزنامه‌ها برداشته شده است. هر یک از آنها به کدام عوامل مؤثر بر کشاورزی مربوط است؟ طبیعی یا انسانی؟

انسانی

طبیعی

۱- هجوم آفت سن* در مزارع گندم در ناحیه‌ی کرمان خسارات زیادی به محصول کشاورزان وارد نمود ...
* سن حشره‌ای است که می‌تواند به محصولات کشاورزی آسیب برساند.

۲- سازمان غله‌ی کشور اعلام کرد که محصول گندم کشاورزان به موقع خریداری می‌شود.

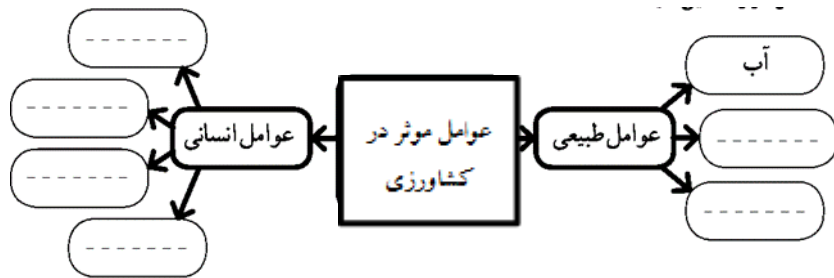
۳- اداره‌ی کشاورزی ورامین از کشاورزان خواست برای تهیه‌ی سم و کود به قیمت تعاونی، به این اداره مراجعه کنند ...

۴- بارش ناگهانی تگرگ در اردبیل به شکوفه‌های درختان میوه آسیب جدی وارد نموده است ...

۵- رئیس اداره‌ی کشاورزی فیروزآباد به خبرنگار گفت: «وجود آب و آفتاب کافی در این ناحیه، امکان دو بار برداشت محصول در سال را به ما می‌دهد» ...

مثال: ۱

۶. نمودار را تکمیل کنید:



۷. زراعت یعنی چه؟
.....
باغداری یعنی چه؟
.....

۸. سه گروه مهم از گیاهان زراعی را نام ببرید.
..... مثل
..... مثل
..... مثل

۹. کشت گلخانه ای چه مزایایی دارد؟

.....
.....
.....

۱۰. سه گروه انرژی را نام ببرید.

۱۱. دانشمندان معتقدند نفت چگونه تشکیل می شود؟

۱۲. برق حرارتی و آبی چگونه تولید می شود؟

۱۳. برای حفظ محیط زیست، استفاده از برق حرارتی بهتر است یا برق آبی؟ چرا؟

۱۴. انرژی هسته ای چیست؟

۱۵. انواع انرژی را با هم مقایسه و جدول را کامل کنید.

انواع انرژی را با هم مقایسه و جدول را کامل کنید.

● انرژی بسیار زیادی تولید می‌کند.

● موجب آلودگی محیطی می‌شود.

● آلودگی ندارد.







● تمام نمی‌شود و قابل تجدید است.

● هزینه‌ی تحقیقات و وسایل نصب آن گران است.

● زباله‌های اتمی برای محیط زیست خطرناک است.

● ارزان است.

● ذخیره‌ی آن تمام می‌شود و غیر قابل تجدید است.

بدی‌ها (معایب) ☹️	خوبی‌ها (مزایا) 😊	انرژی
<ul style="list-style-type: none"> ● ذخیره‌ی آن تمام می‌شود و غیر قابل تجدید است. ● موجب آلودگی محیط می‌شود. 	<p>مثال:</p> <ul style="list-style-type: none"> ● ارزان است. 	<p>نفت </p>
<p>.....</p> <p>.....</p>	<p>.....</p> <p>.....</p>	<p>خورشیدی </p>
<p>.....</p> <p>.....</p>	<p>.....</p> <p>.....</p>	<p>گاز </p>
<p>.....</p> <p>.....</p>	<p>.....</p> <p>.....</p>	<p>باد </p>
<p>.....</p> <p>.....</p>	<p>.....</p> <p>.....</p>	<p>آب جاری </p>
<p>.....</p> <p>.....</p>	<p>.....</p> <p>.....</p>	<p>انرژی هسته‌ای (اتمی) </p>

۱۶. نحوه بهینه مصرف سوخت های فسیلی را بیان کنید.

۱۷. نحوه بهینه مصرف برق را بیان کنید.

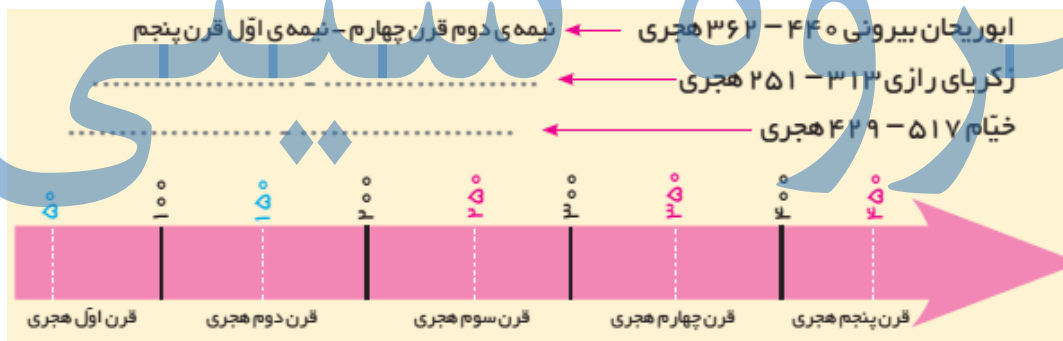
۱۸. برچسب انرژی چیست؟

۱۹. الف) در دوره ی اسلامی به دانشمندان، حکیم می گفتند. چرا؟

ب) چند حکیم دوره اسلامی را نام ببرید.

ب - در دوره ی اسلامی ، اغلب دانشمندان کتاب های خود را به زبان عربی می نوشتند. به نظر شما چرا چنین کاری می کردند؟

۲۰. موارد زیر را روی خط زمان نشان دهید و بگویید هر یک از این افراد در چه زمانی زندگی می کرده اند؟

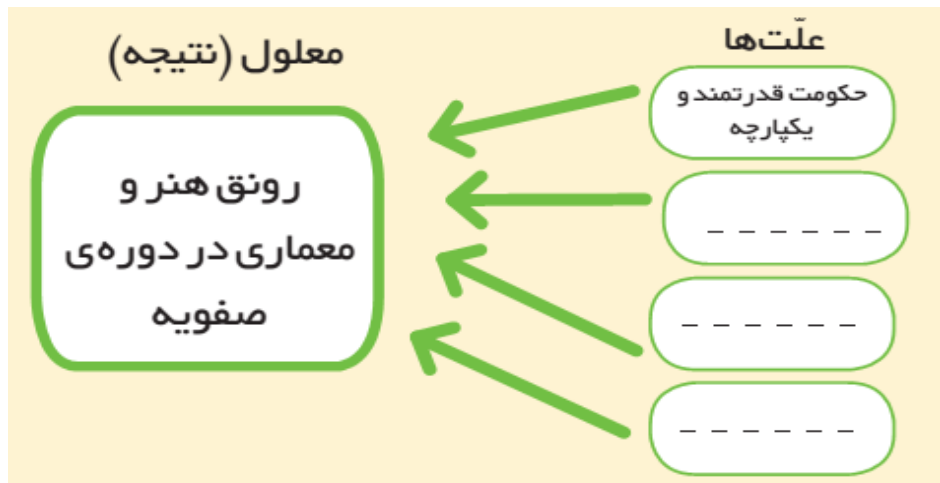


۲۱. علت های پیشرفت های مسلمانان در دوره اسلامی را به طور خلاصه بنویسید.

<p>.....</p> <p>.....</p>	<p>پیشرفت های علمی مسلمانان و شکوفایی علوم و فنون در دوره ی اسلامی</p>	<p>.....</p> <p>.....</p>
<p>.....</p> <p>.....</p>		<p>.....</p> <p>.....</p>
<p>.....</p> <p>.....</p>		<p>.....</p> <p>.....</p>

۲۲. مراکز علمی جهان اسلام را نام ببرید.

۲۳. علت های رونق هنر و معماری را در دوره ی صفویه روی آن به طور خلاصه در محل مناسب بنویسید

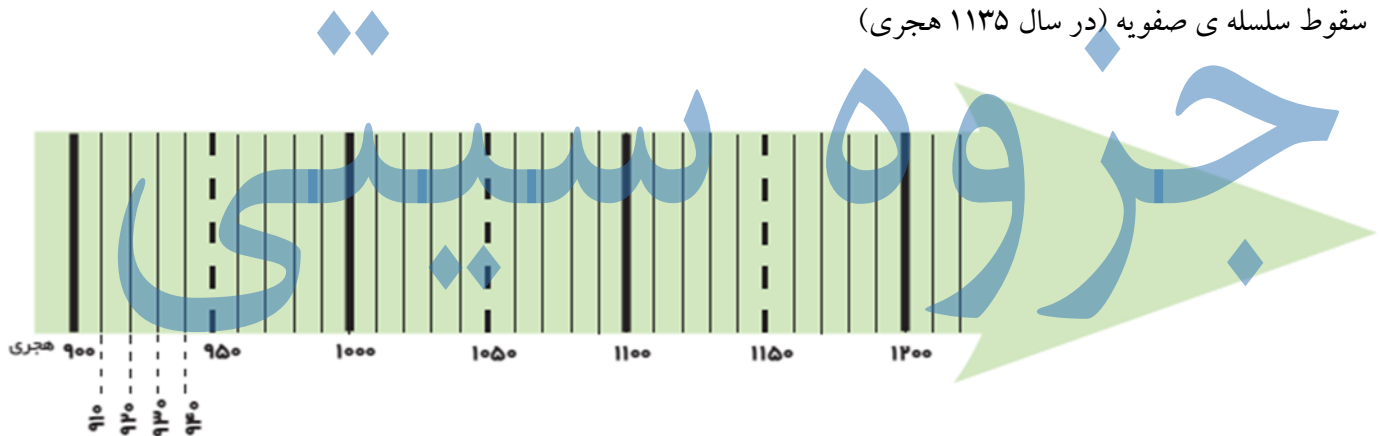


۲۴. این موارد را به طور تقریبی با علامت روی خط زمان نشان دهید.

✓ تأسیس سلسله ی صفویه (در سال ۹۰۷ هجری)

✓ انتخاب اصفهان به پایتختی صفویه (در سال ۱۰۰۶ هجری)

✓ سقوط سلسله ی صفویه (در سال ۱۱۳۵ هجری)



۲۵. مکان های تاریخی میدان نقش جهان را مشخص کنید.





۲۶. کاخ چهلستون یکی از کاخ های صفویان در اصفهان است. سقف این تالار بر بیست ستون استوار شده است و جلوی آن یک استخر بزرگ وجود دارد. در تالار اصلی آن نقاشی های زیبایی به چشم می خورد.
(دقت در آثار تاریخی) چرا با اینکه این کاخ بیست ستون دارد به آن چهلستون می گویند؟

۲۷. مسجد امام و مسجد شیخ لطف الله را روی عکس مشخص کنید. (دقت در آثار تاریخی)



به تصاویر مسجد امام و مسجد شیخ لطف الله دقت کنید. مهمترین تفاوتی که در این دو مسجد مشاهده می کنید، چیست؟

۲۸. این دو صفحه از دو سفرنامه برداشته شده است. آنها را بخوانید و مقایسه کنید. نکات مشترک و متفاوت آنها را بنویسید.



ب

... زیبایی شهر اصفهان به خصوص در کاخ های بانسکوه بی شمار، ساختمان های مجلل و فرح افزا، کاروان سراهای وسیع، بازارهای بسیار زیبا، جدول های آب و نهرها و خیابان هایی است که در دو طرف آراسته به درخت چنار است در صورتی که کوی و برزن های دیگر آن به طور کلی بسیار تنگ و ناهموار است.
این شهر دارای هشت دروازه است که هیچ گاه بسته نمی شود. اگرچه درها پوشیده از آهن است، همیشه خوب مواظبت و نگهداری می شود.

صفحه ۶۱

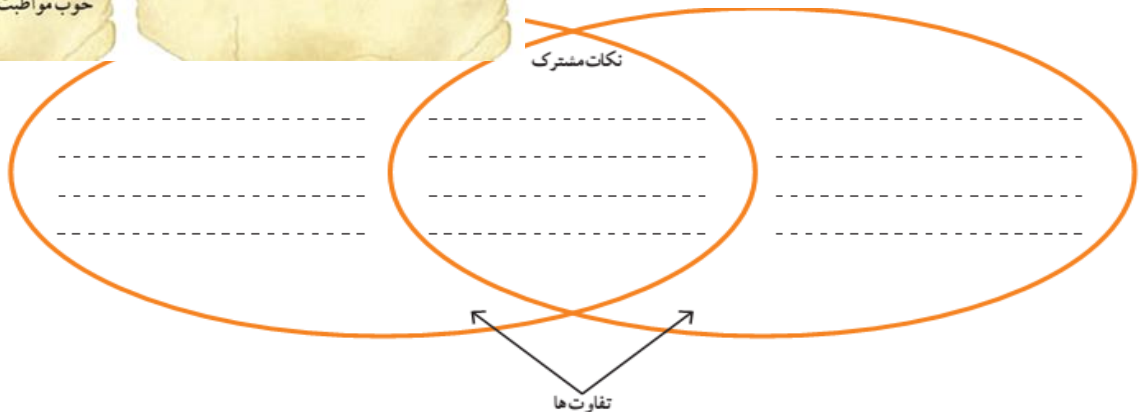


الف

... کوچه های اصفهان همه تنگ و کوچ و موج و اغلب تاریک است. تمام شهر اصفهان، گذشته از میدان بزرگ و چند بازار سرپوشیده، حالت یک ده را دارد. به شهر شبیه نیست.
چند سال است که شروع کرده اند به ساختن بناهای خوب ...
دیوار اطراف اصفهان از خاک است و چند برج بسیار بد دارد.

صفحه ۵۸۲

نکات مشترک



ب) آیا می توانید بگویید کدامیک از این دو مسافر قبل از دیگری به ایران آمده است؟ الف یا ب؟

۲۹. نقاشان روی گنبد مساجد و مینیاتورهای داخل کاخ‌ها، بیشتر چه نقش‌هایی کشیده‌اند؟



۳۰. انواع فنون و هنرهایی را که در ساختن بناهای تاریخی اصفهان به کار رفته است، فهرست کنید.

۳۱. برنامه‌ی متعادل چیست؟

۳۲. به نظر شما ارتباط با خداوند از طریق نماز، دعا و تلاوت قرآن چه تأثیری بر زندگی روزانه‌ی ما دارد؟

۳۳. تفریح و سرگرمی نیز برای انسان لازم است؛ چرا؟

۳۴. کم‌خوابی چه اثراتی دارد؟

۳۵. حضرت علی بن ابی طالب (ع) فرموده‌اند: «از دست دادن فرصت موجب پشیمانی و اندوه است» منظور از این حدیث چیست؟

۳۶. اوقات فراغت یعنی چه؟

۳۷. استفاده‌ی زیاد از بازی‌های رایانه‌ای ممکن است چه ضررهایی داشته باشد؟

۳۸. برخی از مؤسسات و سازمانهایی که در امور اوقات فراغت فعالیت می‌کنند را نام ببرید.

۳۹. رفتارهای مناسب در ورزشگاه‌ها را بیان کنید.

۴۰. رفتارهای مناسب در بوستان‌ها را بیان کنید.